



# basic education

Department:  
Basic Education  
**REPUBLIC OF SOUTH AFRICA**

## **NASIONALE SENIOR SERTIFIKAAT**

**GRAAD 11**

**MUSIEK V1**

**MODEL 2013**

**NAAM VAN LEERDER:**

**PUNTE: 120**

**TYD: 3 uur**

**Hierdie vraestel bestaan uit 18 bladsye en 1 bladsy manuskrippapier  
wat verwyder mag word.**

**INSTRUKSIES EN INLIGTING**

1. Hierdie vraestel bestaan uit VIER afdelings, naamlik AFDELING A tot D.
2. Beantwoord AFDELING A op hierdie vraestel slegs met potlood, in die spasies wat voorsien is.
3. Beantwoord AFDELING B, C en D met blou of swart ink in die ANTWOORDEBOEK wat voorsien word.
4. Nommer die antwoorde korrek volgens die nommeringstelsel wat in hierdie vraestel gebruik word.
5. Die laaste bladsy van hierdie vraestel is manuskrippapier wat vir rofwerk bedoel is. Jy mag dit verwyder.
6. Jy mag nie toegang hê tot enige musiekinstrument vir die duur van die eksamen nie.
7. Skryf netjies en leesbaar.

**NASIENROOSTER**

VRAAG	TOTALE PUNTE	NASIENER	MODERATOR
<b>AFDELING A</b>			
1	15		
2	15		
3	10		
4	20		
<b>SUBTOTAAL</b>	<b>60</b>		
<b>AFDELING B</b>			
5	10		
6	10		
<b>SUBTOTAAL</b>	<b>20</b>		
<b>AFDELING C</b>			
7–16	30		
<b>SUBTOTAAL</b>	<b>30</b>		
<b>AFDELING D</b>			
17–19	10		
<b>SUBTOTAAL</b>	<b>10</b>		
<b>GROOTTOTAAL</b>	<b>120</b>		

**AFDELING A: MUSIEKTEORIE****BEANTWOORD VRAAG 1, 2.1 OF 2.2, 3, EN 4.1 OF 4.2.****VRAAG 1**

Bestudeer *In the Groove* deur Mike Cornick hieronder en beantwoord die vrae wat volg.

**In the Groove**

(vir Klarinet en Klavier)

Mike Cornick

Medium tempo swing ♩ = 116

The musical score consists of two systems. The first system shows the beginning of the piece with a piano (mp) dynamic. The second system starts at measure 5 and includes markings for mezzo-forte (mf) and mezzo-piano (mp). Specific intervals are marked with boxes and letters: (c) in the piano part, (a) in the clarinet part, and (b) and (d) in the piano part. The piece ends with 'etc.'

1.1 Die tydmaatteken van die stuk is weggelaat. Skryf die korrekte tydmaatteken op die toepaslike plek(ke) op die partituur in. (2)

1.2 Noem die intervalle wat (a) en (b) gemerk is, byvoorbeeld (f) Majeur 3<sup>de</sup>.

(a) \_\_\_\_\_

(b) \_\_\_\_\_


(2)

1.3 Noem die tipe drieklank by (c) en (d), byvoorbeeld (g) Vergrote drieklank.

(c) \_\_\_\_\_


(d) \_\_\_\_\_ (2)

1.4 Transponeer maat 1 en 2 van die B<sup>b</sup>-klarinetparty sodat dit reg klink wanneer dit saam met die klavier speel. Sluit die nuwe toonsoortteken in.



(4)

1.5 Skryf die F blues-toonleer opgaande, in die gegewe sleutel. Gebruik heelnote.



(3)

1.6 Watter ritmiese middel word prominent in hierdie stuk gebruik? Omkring EEN voorbeeld op die partituur.

\_\_\_\_\_

(2)  
**[15]**

**BEANTWOORD ÓF VRAAG 2.1 ÓF VRAAG 2.2.****VRAAG 2.1**

Gebruik die aanvangsmotief hieronder en voltooi 'n melodie van agt mate met 'n AB-vorm vir fluit of trompet of viool. Dui aan vir watter instrument jy skryf en voeg dinamiese en artikulasietekens by.

Instrument: \_\_\_\_\_

**Allegretto**

*mf*

Die melodie sal volgens die volgende riglyne nagesien word:

BESKRYWING	PUNTETOEKENNING	KANDIDAAT SE PUNTE
Vorm en kadenspunte	4 (2 + 2)	
Musikaliteit	10	
Dinamiek en artikulasie	5	
Korrekte notasie	7 (1 per maat)	
Instrument en toepaslike omvang	4	
<b>TOTAAL</b>	<b>30 ÷ 2 = 15</b>	


**[15]****OF**

**VRAAG 2.2**

Gebruik die aanvangsmotief hieronder en voltooi 'n melodie van agt mate met 'n AB-vorm vir fagot of tromboon of tjello. Dui aan vir watter instrument jy skryf en voeg dinamiese en artikulasietekens by.

Instrument: \_\_\_\_\_

**Adagio**



Die melodie sal volgens die volgende riglyne nagesien word:

BESKRYWING	PUNTETOEKENNING	KANDIDAAT SE PUNTE
Vorm en kadenspunte	4 (2 + 2)	
Musikaliteit	10	
Dinamiek en artikulasie	5	
Korrekte notasie	7 (1 per maat)	
Instrument en toepaslike omvang	4	
<b>TOTAAL</b>	<b>30 ÷ 2 = 15</b>	

[15]

**VRAAG 3**

Bestudeer die uittreksel hieronder uit *Thula Sizwe*, 'n tradisionele Afrika-koorwerk, en beantwoord die vrae wat volg.

# Thula Sizwe

(Text omitted)

Traditional isiZulu

With conviction ♩ = 120

The first system of the musical score consists of five staves. The top staff is a soprano line in treble clef with a soprano clef (8) and a dynamic marking of *f*. It begins with a rest followed by a melodic phrase. The second staff is an alto line in treble clef with a dynamic marking of *f*. The third staff is a tenor line in treble clef with a dynamic marking of *f*. The fourth staff is a bass line in bass clef with a dynamic marking of *f*. The fifth staff is a bass line in bass clef with a dynamic marking of *f*. The score includes a repeat sign and two boxed sections labeled (a) and (b). Section (a) is a melodic phrase in the alto and tenor parts, and section (b) is a melodic phrase in the tenor and bass parts.

The second system of the musical score consists of five staves. The top staff is a soprano line in treble clef with a soprano clef (8) and a dynamic marking of *f*. It begins with a rest followed by a melodic phrase. The second staff is an alto line in treble clef with a dynamic marking of *f*. The third staff is a tenor line in treble clef with a dynamic marking of *f*. The fourth staff is a bass line in bass clef with a dynamic marking of *f*. The fifth staff is a bass line in bass clef with a dynamic marking of *f*. The score includes a repeat sign and four boxed sections labeled (c), (d), (e), and (g). Section (c) is a melodic phrase in the alto and tenor parts, section (d) is a melodic phrase in the tenor and bass parts, section (e) is a melodic phrase in the tenor and bass parts, and section (g) is a melodic phrase in the soprano part.

3.1 Noem die toonsoort van die stuk.

\_\_\_\_\_

(1)

3.2 Noem die relatiewe mineurtoonsoort van die toonsoort in VRAAG 3.1.

\_\_\_\_\_

(1)

3.3 Besyfer die akkoorde gemerk (a)–(d), byvoorbeeld G: Ib of I<sup>6</sup> of G/B.

(a) \_\_\_\_\_

(b) \_\_\_\_\_

(c) \_\_\_\_\_

(d) \_\_\_\_\_

(4)

3.4 Noem die kadens by (e). Skryf die toonsoort, akkoordprogressie en naam van die tipe kadens neer, byvoorbeeld A: V-vi, onderbroke kadens.

(e) \_\_\_\_\_

(2)

3.5 Noem die nieharmoniese note by (f) en (g).

(f) \_\_\_\_\_

(g) \_\_\_\_\_

(2)

**[10]**



**BEANTWOORD ÓF VRAAG 4.1 ÓF VRAAG 4.2.****VRAAG 4.1**

Voltooi die vierstemmige, vokale harmonisering hieronder deur die alt-, tenoor- en baspartij by te voeg.

Die harmonisering sal volgens die volgende riglyne nagesien word:

BESKRYWING	PUNTETOEKENNING	KANDIDAAT SE PUNTE
Korrektheid: notasie, stemvoering, verdubbeling, spasiëring (14 akkoorde)	14 (Minus ½ punt per fout)	
Akkoordprogressie: akkoordkeuse (12 progressies en gebruik van nieharmoniese note)	12 (Minus ½ punt per fout)	
Algemene indruk (gebruik van deurgangsnoot en terughouding sal met 'n ½ punt elk gekrediteer word)	14	
<b>TOTAAL</b>	$40 \div 2 = 20$	

**[20]****OF**

**VRAAG 4.2**

Voltooi *Summer Rag* hieronder deur die leë mate in te vul. Maak seker dat jy voortgaan in die styl van die gegewe materiaal.

**Summer Rag**

Die antwoord sal volgens die volgende riglyne nagesien word:

BESKRYWING	PUNTETOEKENNING	KANDIDAAT SE PUNTE
Korrektheid: notasie, stemvoering, spasiëring (8 mate)	10 (Minus ½ punt per fout)	
Akkoordprogressie: akkoordkeuse	16 (2 per maat) (Minus ½ punt per fout)	
Algehele indruk	14	
<b>TOTAAL</b>	<b>40 ÷ 2 = 20</b>	

[20]

**TOTAAL AFDELING A: 60**

**AFDELING B: ALGEMENE MUSIEKKENNIS**

Beantwoord AL die vrae in hierdie afdeling in die gegewe ANTWOORDEBOEK.

**VRAAG 5 (VERPLIGTEND)**

Verskeie opsies word as moontlike antwoorde vir die volgende vrae gegee. Kies die antwoord en skryf slegs die letter (A–E) langs die vraagnommer (5.1–5.10) in die ANTWOORDEBOEK neer, byvoorbeeld 5.11 F.

- 5.1 Watter EEN van die volgende elemente is NIE 'n basiese element van musiek NIE?
- A Toonhoogte
  - B Duur
  - C Vorm
  - D Maatmeting
  - E Dinamiek
- (1)
- 5.2 Watter EEN van die volgende elemente is NIE deel van die begrip van musikale tekstuur NIE?
- A Monofonies
  - B Megafonies
  - C Homofonies
  - D Vraag en antwoord
  - E Polifonies
- (1)
- 5.3 Watter EEN van die volgende prosesse is NIE deel van die proses van die suksesvolle uitvoering van 'n musikstuk NIE?
- A Luister
  - B Oefen
  - C Naboots
  - D Vertolk
  - E Aanvoel
- (1)
- 5.4 Kies die beste definisie van *musiek*:
- A Klank, stilte en die uitdrukking van idees
  - B Om in die regte stemming te wees
  - C Die kuns van georganiseerde klank en stilte
  - D Om geraas in 'n bepaalde rigting te lei
  - E Om tevrede te voel met 'n uitvoering
- (1)
- 5.5 Watter instrument in die volgende lys is deel van die chordofoonfamilie?
- A Mbira
  - B Sweep
  - C Basklarinet
  - D Vingertsimbaal
  - E Sitar
- (1)

- 5.6 Watter EEN van die volgende instrumente is NIE deel van 'n tipiese 'big band' NIE?
- A Klavier
  - B Kitaar
  - C Tuba
  - D Tromboon
  - E Altosaksofoon
- (1)
- 5.7 Watter EEN van die volgende terme is NIE verwant aan musikale uitdrukking NIE?
- A Crescendo
  - B Piano
  - C Accelerando
  - D Allegretto
  - E Rubato
- (1)
- 5.8 Watter item in die volgende lys word NIE met 'n ensemble geassosieer NIE?
- A A cappella
  - B 'Rag'
  - C Orkes
  - D Koor
  - E 'Band'
- (1)
- 5.9 Watter item in die volgende lys word NIE met tradisionele Afrikamusiek geassosieer NIE?
- A Konsonans
  - B Poliritme
  - C Polimeter
  - D Diatoniek
  - E Dissonans
- (1)
- 5.10 Watter musiekstyl het die minste bygedra tot die multikulturele aard van Suid-Afrikaanse musiek?
- A Europese Kunsmusiek
  - B Latyns-Amerikaanse Musiek
  - C Die Maleise Musiektradisie
  - D Klassieke Indiese Musiek
  - E Sub-Sahara Afrikamusiek
- (1)  
**[10]**

**VRAAG 6: MUSIEKTEATER, ROCK EN POP, EN MODERNE KONSTRUKTE****6.1 MUSIEKTEATER (VERPLIGTEND)**

- 6.1.1 Wat is *musiekteater*? (3)
- 6.1.2 Musiekblyspele bestaan dikwels uit DRIE hoofelemente. Noem hierdie elemente en verduidelik elkeen kortliks. (3)

**BEANTWOORD ÓF VRAAG 6.1 ÓF VRAAG 6.2.****6.2 ROCK EN POP**

- 6.2.1 Noem VIER instrumente wat in 'n tipiese, standaard- rockorkes sal optree. (2)
- 6.2.2 Noem die mees onderskeidende kenmerk van rockmusiek. Verduidelik hoe hierdie element prominent is. (2)

**OF****6.3 AFRIKA-MUSIEKTEATER**

- 6.3.1 Noem die mees prominente kenmerk van moderne Afrika-musiekblyspele. (1)
- 6.3.2 Noem EEN ritmiese Afrikamusiek-element wat in moderne Afrika-musiekblyspele gebruik word. (1)
- 6.3.3 Kies EEN van die volgende musiekblyspele wat jy bestudeer het:
- *uMabatha*
  - *Iph'intombi*
  - *Sarafina*
  - *African Footprint*
  - *Umoja*

Skryf die naam van die musiekblyspel wat jy gekies het, neer, noem die komponis/skrywer/skepper daarvan en som die storielyn op. (2)  
**[10]**

**TOTAAL AFDELING B: 20**

**AFDELING C****BEANTWOORD EEN VAN DIE VOLGENDE IN AFDELING C:**

- **WESTERSE KUNSMUSIEK (VRAAG 7–8)**
- **JAZZ (VRAAG 9–11)**
- **INHEEMSE AFRIKAMUSIEK (VRAAG 12–16)**

**WESTERSE KUNSMUSIEK****VRAAG 7**

- 7.1 Verduidelik wat met die frase *gevarieerde/veranderde strofiese lied* bedoel word. Gee EEN voorbeeld van 'n lied deur Franz Schubert. (2)
- 7.2 Lewer kommentaar op Franz Schubert se gebruik van klavierbegeleiding in sy Lieder. Gee EEN voorbeeld. (3)
- 7.3 Skryf 'n opstel oor die eerste beweging van Felix Mendelssohn se *Violkonsert in E mineur*, deur spesifiek na die volgende aspekte te verwys:
- Algemene inligting
  - Vorm/Struktuur
  - Harmonie en tonaliteit
  - Solis teenoor orkes
- (10)  
**[15]**

**VRAAG 8**

- 8.1 Definieer *Impressionisme*. (2)
- 8.2 Noem TWEE werke van verskillende genres deur Claude Debussy. Skryf die genre van elke werk wat jy noem, neer. (4)
- 8.3 Noem VIER kenmerke van Igor Stravinsky se musiek soos gevind in *The Rite of Spring*. (4)
- 8.4 Wie het vir George Gershwin opdrag gegee om sy jazz-konsert te komponeer? (1)
- 8.5 Skryf 'n paragraaf oor die jazz-elemente wat in *Rhapsody in Blue* deur George Gershwin gebruik word. (4)  
**[15]**

**OF**

**JAZZ****VRAAG 9**

- 9.1 Verduidelik wat die term '*hard bop*' beteken. Noem EEN werk van 'n 'hard bop'-kunstenaar. (2)
- 9.2 Noem TWEE hoofstyleienskappe van modale jazz. Gee EEN voorbeeld van hierdie jazzstyl. (3)
- 9.3 Skryf 'n opstel oor 'bebop' deur spesifiek na die volgende aspekte te verwys:
- Algemene inligting
  - Die gebruik van melodieë in 'bebop'
  - Ritme
  - Instrumente
  - Belangrike kunstenaars/musikante
- (10)  
**[15]**

**VRAAG 10**

- 10.1 Definieer en verduidelik wat met die term *fusion* bedoel word. (2)
- 10.2 Noem TWEE 'fusion'-kunstenaars/musikante en EEN werk van elk. (4)
- 10.3 Skryf 'n paragraaf oor die hoofstylkenmerke van 'free jazz'. (5)
- 10.4 Watter EEN van die volgende komponiste/musikante/voordraers word met 'free jazz' geassosieer?
- Ornette Coleman
  - Charlie Parker
  - Chet Baker
- (1)  
**[12]**

**VRAAG 11**

- Gee 'n kort beskrywing van *Maskanda*. **[3]**

**OF**

**INHEEMSE AFRIKAMUSIEK****VRAAG 12**

Noem VIER musiekkenmerke van Mama Madosini se musiek en noem TWEE van haar werke.

**[6]****VRAAG 13**

Gee 'n definisie van TWEE van die volgende danse:

- *Kiba*
- *Indlamu*
- *Famo*
- *Mxongolo*
- *Thsikona*
- *Tshigombela*

**[4]****VRAAG 14**

Skryf 'n kort paragraaf oor Princess Magogo.

**[6]****VRAAG 15**

Beskryf hoe die volgende vokale tegnieke in Afrikamusiek gebruik word:

- |      |                    |     |
|------|--------------------|-----|
| 15.1 | Krepitasies        | (1) |
| 15.2 | Ululasie           | (1) |
| 15.3 | Fonestetika        | (1) |
| 15.4 | Onomatopeïese sang | (1) |

**[4]****VRAAG 16**

Skryf 'n opstel oor Inheemse Afrikamusiek deur te verwys na die:

- |      |   |     |
|------|---|-----|
| 16.1 | Kenmerke van Afrikamusiek                     | (5) |
| 16.2 | Die funksie van Afrikamusiek in Afrikakultuur | (5) |

**[10]****TOTAAL AFDELING C: 30**



**AFDELING D**

**Kandidate wat in WESTERSE KUNSMUSIEK spesialiseer, moet VRAAG 18 EN 19 beantwoord.**

**Kandidate wat in JAZZ spesialiseer, moet VRAAG 17 EN 19 beantwoord.**

**Kandidate wat in INHEEMSE AFRIKAMUSIEK spesialiseer, moet VRAAG 17 EN 18 beantwoord.**

**VRAAG 17: OORSIG VAN WESTERSE KUNSMUSIEK**

Dui aan of die volgende stellings WAAR of ONWAAR is. Kies die antwoord en skryf 'waar' of 'onwaar' langs die vraagnommer (17.1–17.6) in die ANTWOORDEBOEK neer. Korreger die stelling indien dit ONWAAR is.

- 17.1 'n Tipiese karakterstuk is 'n instrumentale werk vir orkes.
- 17.2 'n Tipiese strykkwartet bestaan uit Viool 1, Viool 2, Viool 3 en Altviool.
- 17.3 Neoklassisisme is 'n term vir 'n 20<sup>ste</sup> eeuse beweging wat in opstand gekom het teen die oordadige emosies en chromatiese musiek wat aan die einde van die 19<sup>de</sup> eeu geskryf is.
- 17.4 Die basso continuo word beskou as die grondslag van die meeste tipes Romantiese musiek.
- 17.5 'n Romantiese opera word deur 'n klein ensemble begelei.
- 17.6 Die konsert-ouverture hou geen verband met opera nie. (10 ÷ 2) [5]

**VRAAG 18: JAZZ-OORSIG**

Dui aan of die volgende stellings WAAR of ONWAAR is. Kies die antwoord en skryf 'waar' of 'onwaar' langs die vraagnommer (18.1–18.7) in die ANTWOORDEBOEK neer. Korreger die stelling indien dit ONWAAR is.

- 18.1 Blues is 'n musiekstyl wat die gewildste was tussen 1910 en 1940 en wat vandag in komposisies gebruik word.
- 18.2 'Backbeat' beklemtoon die eerste en derde slag van 'n 4/4-maat.
- 18.3 'Cool jazz' is 'n moderne jazz-styl van die 1950's wat 'n ontspanne benadering tot toonkleur gebruik het en met die basiese elemente soos vorm, tekstuur, instrumentasie en metrum geëksperimenteer het.
- 18.4 'n Blues-werk bestaan gewoonlik uit 'n 16-maat-struktuur in enkelvoudige tydmaat.
- 18.5 Jazz word herken aan sinkopasie en word geïnspireer deur intensiewe, ritmiese spel en word deur enige kombinasie spelers gespeel.
- 18.6 'n Eienskap van 'swing' is die 'swing'-baslyn ('walking bass'/bewegende basparty) waar die bas teen 'n egalige pas beweeg.
- 18.7 'Ragtime' is hoofsaaklik 'n soort vokale musiek en word gewoonlik teen 'n vinnige tempo uitgevoer. (10 ÷ 2) [5]

**VRAAG19: OORSIG VAN INHEEMSE AFRIKAMUSIEK**

Dui aan of die volgende stellings WAAR of ONWAAR is. Kies die antwoord en skryf 'waar' of 'onwaar' langs die vraagnommer (19.1–19.7) in die ANTWOORDEBOEK neer. Korreger die stelling indien dit ONWAAR is.

- 19.1 Vraag en antwoord is 'n sangstyl waarin die koor 'n frase sing, waarop 'n solis met 'n antwoordfrase reageer.
- 19.2 Afrikamusiek word gewoonlik op 'n herhalende siklus gebaseer.
- 19.3 Musiek in Afrika word dikwels van liggaamsbeweging en handeklap of voetgestamp vergesel.
- 19.4 Poliritme is die kombinasie van twee of meer duidelik verskillende en dikwels strydende ritmiese patrone wat gelyktydig gespeel word.
- 19.5 Mbaqanga het in die vroeë 1990's in swart townships in Suid-Afrika ontstaan.
- 19.6 Kwela het uit die marabi-klank ontwikkel en het Suid-Afrikaanse musiek in die internasionale kolly geplaas.
- 19.7 Die mbira is 'n tradisionele instrument van die Shona-mense van Suid-Afrika en bestaan uit 'n houtbord met metaalstafies. (10 ÷ 2) **[5]**

**TOTAAL AFDELING D: 10**  
**GROOTTOTAAL: 120**

